

Cuadernillo de Repaso Escolar 2012



Chihuahua
Gobierno del Estado
Secretaría de Educación,
Cultura y Deporte



SERVICIOS EDUCATIVOS
DEL ESTADO DE CHIHUAHUA



DIRECCIÓN DE EDUCACIÓN PRIMARIA



1er
grado

Nombre:

Grupo:

Escuela:

Mensaje del Director

Estimados niños, niñas, maestros, maestras, padres y madres de familia:

Cada vez más, los avances científicos y tecnológicos nos motivan a pensar en estrategias que permitan a los beneficiarios del sector educativo la adquisición de competencias y habilidades para su desarrollo personal, que estamos seguros impactará en el desarrollo social estatal.


El trabajo que se realiza en la Dirección de Educación Primaria de los Servicios Educativos del Estado de Chihuahua, a través de sus diferentes departamentos y áreas, está enfocado precisamente a favorecer el desarrollo de las habilidades de pensamiento y procedimentales de nuestra población escolar. El trabajo de los y las maestras de nuestra entidad así lo demuestra, a la vez que a través de los medios electrónicos podemos brindar la oportunidad de ofrecer materiales educativos de las diferentes asignaturas y ámbitos.

El presente “Cuadernillo de Repaso Escolar 2012” constituye una de las herramientas diseñadas para que el alumno reafirme los conocimientos adquiridos en los bimestres del presente ciclo escolar a través de ejercicios sencillos estructurados a manera de reactivos de evaluación a partir de los contenidos educativos o aprendizajes esperados.

El concepto de educación se construye día a día, y esta Dirección la concibe en esta realidad y actualidad cambiante como el arte de navegar por la información, disminuyendo con ello la brecha en el logro académico de los distintos grupos sociales.

Deseo que este material apoye los aprendizajes de los alumnos, brinde elementos a los maestros para la toma de decisiones pedagógicas y a la vez constituya para los padres de familia un instrumento que brinde claridad de lo aprendido por sus hijos en la escuela.

Profr. Raúl Rascón Fuentes
Director de Educación Primaria



INSTRUCCIONES



¿Qué contiene mi cuadernillo?

Reactivos de acuerdo a los aprendizajes esperados de los bimestres: septiembre-octubre, noviembre-diciembre y enero-febrero.

¿Cómo voy a contestar los reactivos?








Leyendo cuidadosamente cada reactivo.



Rellenando el círculo de la opción que elija como correcta.

Ejemplo.

¿Cuántas combinaciones se puedan hacer con las prendas de vestir de la siguiente tabla?

(A)

12

(B)

5

(C)

6

¡Esfuerzate, tú lo puedes lograr!

ESPAÑOL

LEE O PIDE QUE TE LEAN ESTE CUENTO.

En un charco, a orillas de un río, vivía un grupo de ranas. Se la pasaban todo el día croando y croando. ¡Crooc! ¡Crooc!... Aquel día era muy especial porque las ranitas pequeñas cantarían por primera vez. Una a una fueron cantando: ¡Crooc! ¡Crooc!.

Hasta que saltó una ranita al escenario, (que era una piedra en medio del agua), y en lugar del famoso ¡Crooc! ¡Crooc!, ¡cantó una hermosa melodía, con una bellísima voz de soprano! Todos quedaron paralizados. Simplemente no lo podían creer. ¡Una rana que sí cantaba bien!







La novedad corrió por todo el valle y llegó a oídos, de un representante de artistas, que se apresuró a ir a buscar a la ranita cantora. La llevó a los más grandes escenarios del mundo y grabó muchos discos. Todos la admiraban y querían tomarse fotos con ella. Sin embargo, la ranita no era feliz. Ella quería volver a su charco, con su familia y sus amigos. Pero era esclava de su voz y de su fama. No podía volver.

Hasta que, en medio de un recital, en un reino muy lejano, la ranita cantora cambió su dulce canto, por el canto natural de las ranas, el ronco ¡Crooc! ¡Crooc!... El público le empezó a silbar para que se callara, la pequeña rana se dio cuenta que ahora podría volver a su charco añorado. Ahora la ranita sí era feliz cantando, ¡Crooc! ¡Crooc! ¡Crooc!, con su familia, sus amigos y su charco.

1 Título que corresponde a la lectura anterior.

- ☐ A La ranita infeliz.
- ☐ B La ranita voladora.
- ☐ C La ranita de la voz hermosa.

2 Opción que muestra el orden alfabético los siguientes títulos.



Samuel el pirata.
El león y el ratón.
Los tres cochinitos.
Ratones al ataque.

A

El león y el ratón.
Los tres cochinitos.
Ratones al ataque.
Samuel el pirata.

B

Los tres cochinitos.
Ratones al ataque.
Samuel el pirata.
El león y el ratón.

C

3 Texto que corresponde a la ilustración.

- A La ranita era muy trabajadora.
- B La ranita canta una hermosa melodía.
- C La ranita contó un cuento a sus hermanitas.



4 Cartel que muestra las reglas de un salón de clases.



A



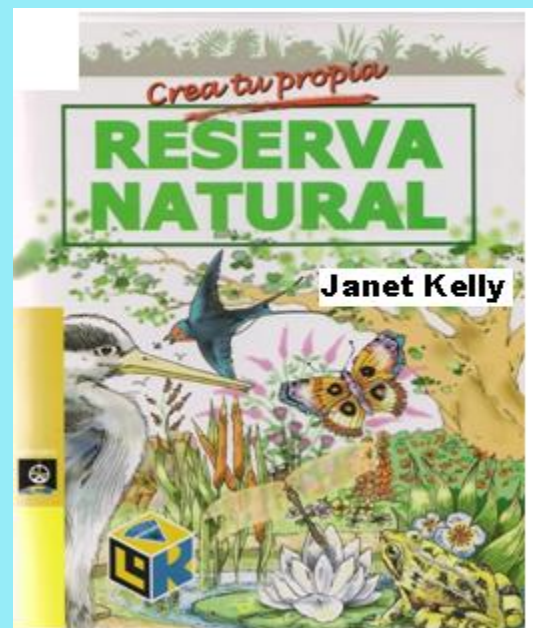
B



C

5 ¿Cuál es el autor del siguiente libro?


- A** Sandra Gallo.
- B** Cecilia Pisos.
- C** Janet Kelly.




LEE:

6 Los alumnos de primer grado definieron cuál cuento es su preferido.


11 alumnos eligieron




6 prefirieron



4 votaron por



y 3 alumnos escogieron



¿Cuál tabla muestra estas preferencias?

Cuento que prefieren los niños de primer grado.		
Cuentos	Votos	Total
Samuel el pirata	///// ///// /	11
El león y el ratón	///// /	6
Los tres cochinitos	///	3
Ratones al ataque	////	4

A

Cuento que prefieren los niños de primer grado.		
Cuentos	Votos	Total
Samuel el pirata	///// /	6
El león y el ratón	///// ///// /	11
Los tres cochinitos	////	4
Ratones al ataque	///	3

B

Cuento que prefieren los niños de primer grado.		
Cuentos	Votos	Total
Samuel el pirata	///// ///// /	11
El león y el ratón	///// /	6
Los tres cochinitos	////	4
Ratones al ataque	///	3

C

7 Título que corresponde al cuento que se ilustra.



- A** La ranita cantadora.
- B** El cumpleaños de la rana.
- C** La rana que quería ser reina.

8 Texto escrito incorrectamente.

- A** La ranita no era feliz, pues quería volver al charco.
- B** La ranita cambió su canto, por el canto natural de las ranas.
- C** La ranas era esclavo de su voz y de su famas, pero no era felices.

9 ¿De qué trata la noticia principal del periódico?

- A Sobre la presentación del balón de los juegos olímpicos.
- B Sobre una pareja que contrajo matrimonio en Chihuahua.
- C Sobre un pez que solo hay en una región de Chihuahua.



10 Escribe una noticia de tu escuela.

PERIÓDICO ESCOLAR

11 Opción que presenta una nota informativa.

Loro corona lila



Habita en bosques de pino y encino desde Chihuahua y Sonora hasta Oaxaca. Es muy inteligente, se adapta a la vida de la ciudad. Los colores y su capacidad para imitar sonidos son muy atractivos por lo que la gente los compra.

A

LOROS 150.00



\$ Se venden loros muy baratos y platicadores.

\$150 c/u

Informes con Raquel al tel 412-22-22

B


El lobo y el loro




Había una vez un lorito que le gustaba repetir las malas palabras que escuchaba de los demás. Un día el lobo se molestó porque pensó que lo estaba insultando y se lo quiso comer. El loro huyó asustado y desde entonces cuida mucho las palabras que repite.

C


12 Libro donde se puede encontrar información sobre las ranas.



A




B



C

ESCUCHA LA LECTURA DE LA SIGUIENTE COPLA Y CONTESTA LOS REACTIVOS 13 Y 14.

**Esta es Nina la gallina,
siempre está feliz y orgullosa
por ser mamá de una familia
que son mamá, Raúl y Rosa.**




13 ¿De qué trata la copla?

- A** De una gallina que tiene dos pollitos.
- B** De una gallina que quería ser mamá.
- C** De una gallina que sueña con tener una familia.

14 En la copla, ¿cuáles palabras riman?


- A** Raúl - Rosa.
- B** Orgullosa - Rosa.
- C** Familia - mamá.

15 Elabora un anuncio para vender o comprar un producto.




MATEMÁTICAS

1 ¿Cuáles números faltan en la fila de las ranas?



- A** 50, 55, 57
- B** 51, 56, 58
- C** 51, 57, 58

2 Algunas ranas se salieron de la fila, ordénalas de mayor a menor.



- A** 53, 46, 67, 28, 39, 84
- B** 28, 39, 46, 53, 67, 84
- C** 84, 67, 53, 46, 39, 28

3 En la orilla del charco de las ranas pusieron un cerco con círculos, triángulos y cuadrados. ¿Cuál es la imagen del cerco?

- A**
- B**
- C**

- 4 En el charco había 21 ranas, 12 fueron a pasear y las otras se quedaron sobre un tronco. ¿Cuántas ranas se quedaron en el tronco?



A



B



C

- 5 En un charco hay 18 ranas y 21 renacuajos. ¿Cuántos son en total?

A 39

B 38

C 40

- 6 Los animales corrieron la carrera de la primavera. Llegaron en el orden que muestra la imagen.

¿Cuál animal llegó en primer lugar?



A Tortuga

B Oso

C Perro

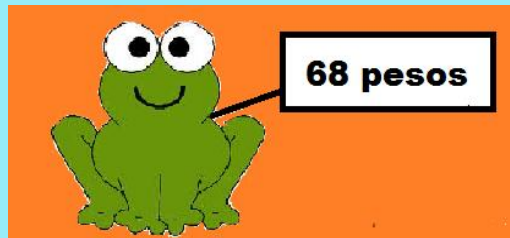
7 ¿En qué lugar llegó la gallina?

(A) Sexto

(B) Noveno

(C) Octavo

8 Luis compró una rana en la tienda de mascotas. ¿Con cuál billete pagó?



(A)



(B)



(C)

9 Una pecera cuesta



¿Cuál opción muestra esta cantidad?

(A) 75 pesos

(B) 60 pesos

(C) 65 pesos

10 Leonel compró una tortuguita de 25 pesos, pagó con 40 pesos. ¿Cuánto le devolvieron de cambio?

Opción que contiene la operación que puede resolver el problema anterior.

(A) $25 + 40 =$

(B) $40 - 25 =$

(C) $25 - 40 =$

11 Lorena compró 8 ranitas, 12 tortuguitas y 15 peces. ¿Cuántas mascotas compró?

(A) 35

(B) 36

(C) 34

12 Carmen compró 12 peces y le regaló a su hermano 5. ¿Cuántos peces le quedaron?

(A) 7 peces

(B) 5 peces

(C) 6 peces

13 ¿Cuántos peces hay en las tres peceras?



(A) 17 peces



(B) 18 peces



(C) 19 peces

14 ¿Cuántos animales hay las peceras?



A 19



B 25



C 24

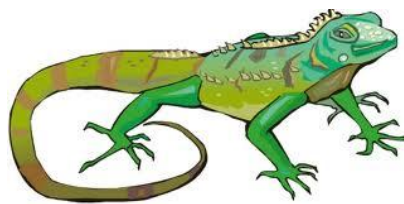
15 Opción que contiene el orden de mayor a menor tamaño de las siguientes mascotas.



1



2



3



4

A 4, 1, 2, 3

B 3, 2, 1, 4

C 1, 2, 3, 4

EXPLORACIÓN DE LA NATURALEZA Y LA SOCIEDAD.

- 1** Órgano de los sentidos que protege el cuerpo y permite conocer la temperatura del ambiente.



A



B



C

- 2** Julieta tiene problemas de sobrepeso, por lo que deberá...

- A** guardar reposo y comer una dieta con carbohidratos.
- B** hacer ejercicio y comer una dieta balanceada.
- C** hacer algún esfuerzo e ingerir bocadillos.

- 3** Juanito está en primer grado, ¿cuáles son los días que no va a la escuela y que ayuda en casa?

- A** Domingo y lunes.
- B** Viernes y sábado.
- C** Sábado y domingo.

- 4** Berenice se siente mal, pues toma muchos refrescos diariamente. ¿Cuál bebida debe consumir para conservar la salud, no tomarla puede causarle deshidratación y muerte?



A



B



C

- 5** Sandra vive con su familia, su papá trabaja sembrando la tierra y su mamá hace las labores del hogar. ¿Cuál es el lugar donde vive?



A



B



C


- 6** Componentes naturales vivos, es muy importante conservarlos y cuidarlos.



A

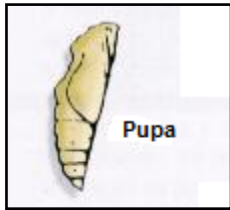


B




C

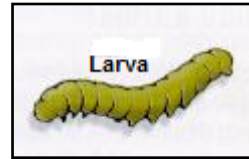
7 Opción que contiene la secuencia de la vida de una mariposa.



1



2



3



4

- (A) 4, 3, 2, 1, (B) 4, 3, 1, 2 (C) 3, 2, 4, 1

8 Don Lorenzo vive en el desierto, cuando su familia enferma, los cura de manera natural con...

- (A) penicilina y aspirinas.
(B) cactus, raíces y tallos.
(C) inyecciones y pastillas.

9 Identifica la imagen donde hace mucho calor y llueve frecuentemente.



(A)






(B)



(C)

- 10 La maestra pidió a sus alumnos que clasificaran algunos animales de acuerdo al lugar donde viven; Luis, Raúl y Dora hicieron las siguientes clasificaciones. ¿Quién hizo lo correcto?




- (A) Luis (B) Dora (C) Raúl

- 11 Andrea cumple 7 años el tercer domingo del mes de abril.
¿Cuál es la fecha de su cumpleaños?


ABRIL 2012						
Domingo	Lunes	Martes	Miércoles	Jueves	Viernes	Sábado
1	2	3	4	5	6	7
8	9	10	11	12	13	14
15	16	17	18	19	20	21
22	23	24	25	26	27	28
29	30					

- (A) 8 de abril (B) 15 de abril (C) 29 de abril

12 Carlos tiene seis años y su hermanita Luisa tiene dos.
¿Cuál es la secuencia correcta de los cambios que han ocurrido en su familia?



1



2



3

A 3, 2, 1

B 3, 1, 2

C 2, 1, 3

13 Juguete que utilizaban los papás de tus abuelos.



A



B



C

14 Tradición que permite recordar a los seres queridos que han muerto.



A



B



C

15 La Constitución Política de los Estados Unidos Mexicanos es un documento muy importante para nuestro país porque...



- A** contiene historias sobre los héroes de la Independencia.
- B** nos ayuda a estudiar y conseguir un buen trabajo en el futuro.
- C** en ella se encuentran los derechos y deberes que regulan la vida de los mexicanos.

FORMACIÓN CÍVICA Y ÉTICA

1 José se cambió a una nueva escuela, algunos niños se presentaron con él. ¿Quién le dio una bienvenida?

- (A)** Juan: Aquí todos hacen lo que yo digo, tú también lo debes hacer.
- (B)** Rosa: Que bueno que llegaste, si necesitas algo, yo te puedo ayudar.
- (C)** María: A mí no me molestes, tú no eres de esta escuela.

2 Identifica algunos de los derechos de los niños.

- Colaborar en la casa.
- Cuidarse a sí mismo.
- Cumplir con sus tareas.

(A)

- Trabajar en una tienda.
- Faltar a la escuela.
- Salir sin permiso.

(B)

- Un nombre propio.
- Una familia que lo quiera.
- Un hogar digno.

(C)

3 Imagen que muestra cómo no deben ser tratados los niños en la escuela.



(A)




(B)



(C)

4 Dibuja tu familia escribe sus nombre y el parentesco contigo.



5 Lugar de la casa donde pueden ocurrir más accidentes.



A



B



C

6 Situación donde es necesario que los niños sigan las instrucciones de un adulto.

- A Samuel tiene seis años, va a ir a la fiesta de Roel el sábado en la noche.**
- B Rafael juega a las escondidas con sus amigos en el parque.**
- C Julieta cumplió 7 años y ha decidido ponerse el vestido rojo.**

7 Perla golpeó a Rocío, y la maestra las castigó a las dos. Esta es una situación...

- (A)** injusta porque no había motivo para que la maestra castigara a Rocío.
- (B)** justa porque las dos participaron en el pleito.
- (C)** justa porque las niñas no deben pelear.

8 Necesidad más importante que los padres o tutores deben cubrir en los niños.



(A)



(B)



(C)

9 Situación en la que se atienden las necesidades básicas de los niños?

- (A)** Marcos tiene 6 años y no tiene un acta de nacimiento.
- (B)** Florencia vive en la calle, debajo de un puente.
- (C)** Luisa tiene una familia que la ama y protege.

10 Situación que presenta el uso justo de los espacios recreativos de la escuela.

- A** Los niños juegan fútbol en la cancha, mientras las niñas los observan y les echan porras, porque ellos piensan que ellas son muy débiles.
- B** Las niñas juegan basquetbol, mientras los niños las observan en las gradas, porque a ellas no les gusta compartir la cancha.
- C** Las niñas y los niños juegan y se divierten juntos en la cancha.

11 Grupo de personas que requieren mayores cuidados y atenciones.



A



B



C

12 Situación donde se hace un uso adecuado del agua.



A



B



C

- 13** Sandro rompe y tira muchas hojas de su cuaderno, cuando quiere, le pide a su papá le compre otro.
¿Qué recurso natural está desperdiciando?



A



B



C

- 14** Situación en la que se están cuidando los recursos naturales.

- A Romualdo se queda dormido con la televisión prendida.
- B En la casa de Rudy tiran el periódico en la basura todos los días.
- C Susana utiliza la ropa que a su hermana no le queda porque está en muy buenas condiciones.

- 15** Festividad que celebramos los mexicanos cada año en el mes de febrero, nos da identidad y orgullo nacional.



A Navidad



B Día de muertos



C Día de la bandera